
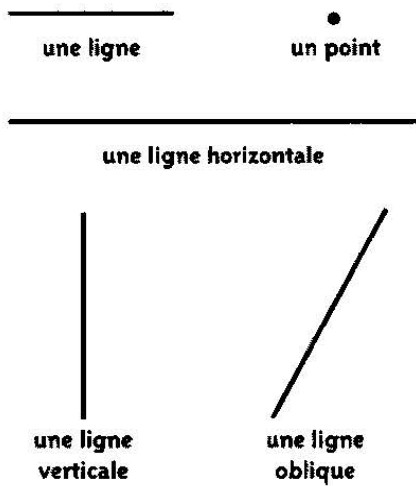

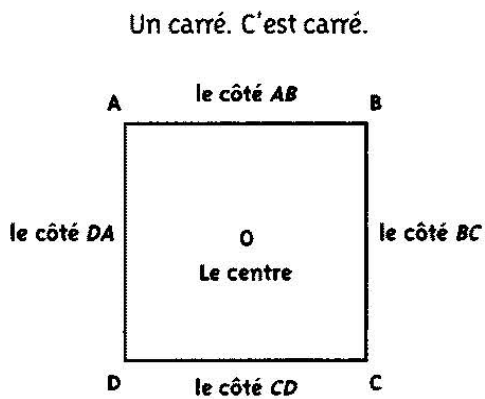


DES LIGNES



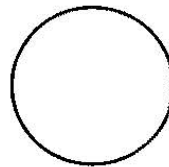
Le soleil se couche à l'horizon.



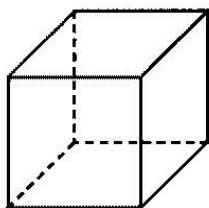
Un rectangle.
C'est rectangulaire.



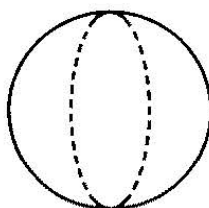
Un triangle.
C'est triangulaire.



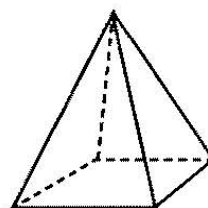
Un cercle.
C'est rond.



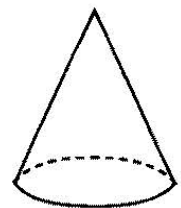
un cube



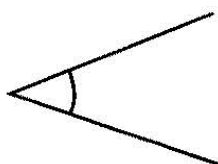
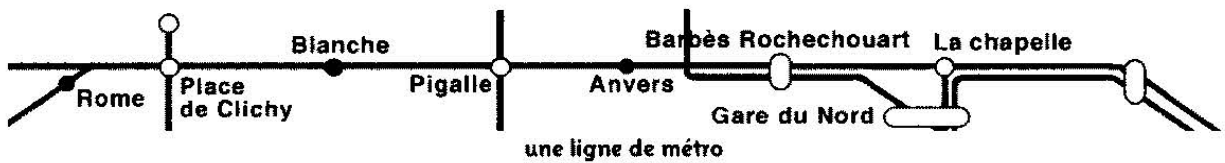
une sphère



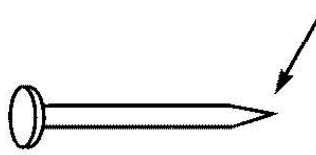
une pyramide



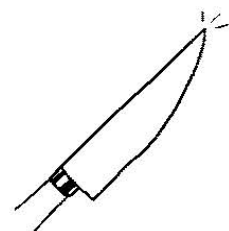
un cône



un angle

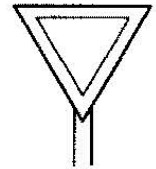
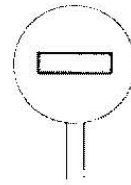

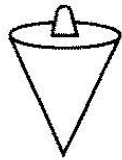
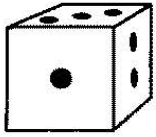


une pointe



C'est pointu !

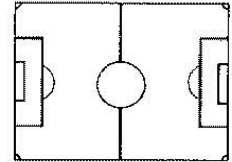
1 Complétez avec : *c'est triangulaire, un cube, un rectangle, un cercle, un cône.*



a. b. c. d. e.

2 Complétez.

- | | |
|---------------------------------------|--|
| 1. Le terrain de football est | <i>carré - rond - rectangulaire - oblique</i> |
| 2. Les côtés sont | <i>des angles - des points - des carrés - des lignes</i> |
| 3. Au centre du terrain, il y a | <i>un carré - un rond - un cône</i> |
| 4. Le ballon de foot est | <i>un cône - un cercle - une sphère - un rond</i> |
| 5. La lune est | <i>ronde - carrée - pointue - verticale</i> |



3 Vrai ou faux ?

- | | Vrai | Faux | | Vrai | Faux |
|---------------------------------|--------------------------|--------------------------|--------------------------------------|--------------------------|--------------------------|
| 1. Le carré a quatre côtés. | <input type="checkbox"/> | <input type="checkbox"/> | 6. Le rectangle a quatre angles. | <input type="checkbox"/> | <input type="checkbox"/> |
| 2. Le triangle a quatre angles. | <input type="checkbox"/> | <input type="checkbox"/> | 7. Le cône a une pointe. | <input type="checkbox"/> | <input type="checkbox"/> |
| 3. Le cercle a deux centres. | <input type="checkbox"/> | <input type="checkbox"/> | 8. Le cube est rectangulaire. | <input type="checkbox"/> | <input type="checkbox"/> |
| 4. La pyramide est ronde. | <input type="checkbox"/> | <input type="checkbox"/> | 9. Le triangle a des côtés obliques. | <input type="checkbox"/> | <input type="checkbox"/> |
| 5. Une ligne a trois côtés. | <input type="checkbox"/> | <input type="checkbox"/> | | | |

4 Complétez les mots croisés.

1. Entre les côtés.
2. C'est une ligne.
3. Il a trois angles.
4. Entre le jour et la nuit.
5. Ils sont arrivés en même ...
6. L'escargot est ...
7. Avant jeudi.
8. Il y a 24 ... dans une journée.
9. Je ne suis pas en avance, je suis en ...
10. Je, tu, ... / elle.
11. Cinq est ... quatre et six.
12. Après quinze.
13. A, B, C, D, X, Y et Z sont des ...
14. Le cercle est ...
15. La lune est une ...

